

۱ الگوهای زیر را ادامه دهید.

_____ و _____ و ۱۰ و ۵ و ۰

_____ و _____ و ۴ و ۲ و ۱

۲ عدد ۴۷۹۶۰۰ چند رقمی است؟ _____ رقم دهگان آن چند است؟ _____

رقم یکان هزار آن چند است؟ _____ رقم ۴ در این عدد چه ارزشی دارد؟ _____

۳ مقایسه کنید.

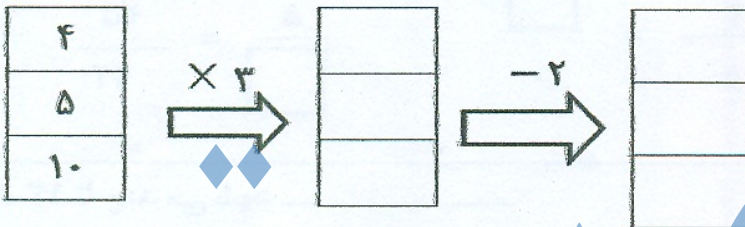
۲۱۳۴۸ ۹۷۸

$\frac{1}{2}$ $\frac{8}{14}$

$\frac{1}{2}$ $\frac{1}{3}$

۶۷۳۰۰۴۲ ۶۹۸۷۵۳۸

۴ ماشین ورودی و خروجی را کامل کنید.



۵ تساوی ها را کامل کنید.

$8 \dots + 3 \dots + 7 \dots + 8 \dots + 5 \dots = \dots$

$2532 = \dots$

۶ $\frac{3}{8}$ شکل زیر را رنگ بزنید.



۷ حاصل جمع و تفریق های زیر را بدست آورید.

$\frac{4}{6} + \frac{1}{6} = \dots$

$\frac{1}{5} + \frac{3}{10} = \dots$

$\frac{9}{11} - \frac{2}{11} = \dots$


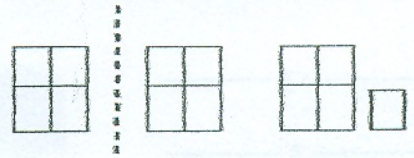
$\frac{4}{12} - \frac{1}{6} = \dots$

۸ حاصل ضرب های زیر را بدست آورید.

$3 \times \frac{2}{7} = \dots$
 $5 \times \frac{1}{10} = \dots$

$\begin{array}{r} 43 \\ \times 4 \\ \hline \end{array}$

$89 \times 1000 = \dots$

۹	کسری بنویسید که صورت آن ۸ و مخرج آن ۶ برابر صورت باشد.
۱۰	کسر و عدد مخلوط مربوط به هر شکل را بنویسید.  
۱۱	در یک مزرعه $\frac{7}{15}$ زمین را جو و گندم کاشته اند. اگر $\frac{4}{15}$ زمین گندم باشد در چه کسری از زمین جو کاشته شده است؟
۱۲	دو تا چک پول ۵۰۰/۰۰۰ هزار ریالی می شود. ریال و تومان.
۱۳	جاهای خالی را کامل کنید.
	$\frac{12}{21} = \frac{4}{\square}$ $\frac{3}{5} = \frac{\square}{10}$ $\frac{5}{\square} = \frac{35}{42}$
۱۴	ثلث ۱۲ تا چند می شود خمس ۳۰ تا چند می شود

جزو ه سیتی

موفق و سربلند باشید